



Learn Symbols + and =























3 + 2 = 5
THREE plus TWO equals FIVE



1 + 3 = 4
ONE plus THREE equals FOUR

1. Fill in the numbers. Add. Read the additions aloud using “plus” and “equals”.

<p>a.  </p> <p><u> 1 </u> + <u> 3 </u> = <input type="text"/></p>	<p>b.  </p> <p><u> </u> + <u> </u> = <input type="text"/></p>
<p>c.  </p> <p><u> </u> + <u> </u> = <input type="text"/></p>	<p>d.  </p> <p><u> </u> + <u> </u> = <input type="text"/></p>
<p>e.  </p> <p><u> </u> + <u> </u> = <input type="text"/></p>	<p>f.  </p> <p><u> </u> + <u> </u> = <input type="text"/></p>
<p>g.  </p> <p><u> </u> + <u> </u> = <input type="text"/></p>	<p>h.  </p> <p><u> </u> + <u> </u> = <input type="text"/></p>
<p>i.  </p> <p><u> </u> + <u> </u> = <input type="text"/></p>	<p>j.  </p> <p><u> </u> + <u> </u> = <input type="text"/></p>